


Фамилия, имя _____

Итоговая тестовая работа по окружающему миру за курс 1 класса УМК
«Школа России».

1. Найдите флаг России.



2. Вспомните, какие народы вы знаете. Рассмотрите на рисунках представителей некоторых народов России. Соотнесите картинку с названием соответствующего народа.



русские башкиры татары

3. Столица России - это....

А) Москва Б) Магнитогорск В) Минск

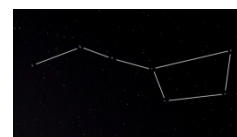
4. Что можно увидеть на ночном небе?

А) Солнце и луну

Б) Луну и звезды

В) Месяц и луну

5. Найди на картинках созвездие большой медведицы.



6. Кто такие насекомые? Выбери верное определение.

А) Насекомые – это животные, у которых шесть ног.

Б) Насекомые – это водные животные, тело которых покрыто чешуёй.

В) Насекомые – это животные, тело которых покрыто перьями.

7. Кто такие звери? Выбери верное определение.

А) Звери – это животные, тело которых покрыто шерстью. Звери выкармливают детёнышей молоком. Поэтому их называют млекопитающими.

Б) Звери – это водные животные, тело которых покрыто чешуёй.

В) Звери – это животные, тело которых покрыто перьями.

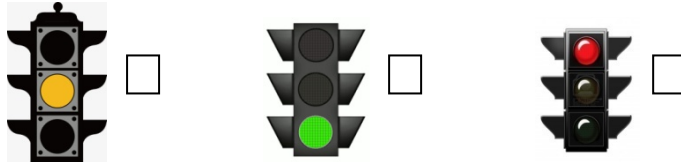
8. В каждом ряду вычеркните лишний предмет.

А) шкаф, стул, диван, чайник.


Б) ложка, блендер, телевизор, пылесос.

В) вилка, тарелка, кресло, кастрюля.


9. На какой сигнал светофора можно переходить улицу? Выберите верную картинку.



10. Вспомните, как работает почта. Отметь верный путь письма от отправителя до адресата.



11. Где живут белые медведи, а где живут пингвины? Стрелочками укажи на глобусе, место проживания медведей и пингвинов.



12. Как ты знаешь, птицы бывают перелетные, зимующие и кочующие. Правильно определи и подпиши группы птиц.

Синица	Ласточка	Снегирь
Воробей	Жаворонок	Поползень
Ворона	Соловей	Синица
Галка	Скворец	Дятел

13. Рассмотрите рисунок компьютера. Подпишите, как называются части компьютера.



14. Почему идет дождь? Выберите верное утверждение.

- А) Капли, из которых состоит облако, становятся слишком тяжелыми и падают на землю.
- Б) Потому что стоит плохая погода, поэтому идет дождь.
- В) Это плачет туча, когда светит солнце.

15. Почему радуга разноцветная? Выберите верное утверждение.

- А) Это цветные лучи солнца.
- Б) Это цветные капли дождя, которые на солнце становятся видимыми.
- В) Это солнечные лучи, попадая в небе на капельки дождя, распадаются на разноцветные лучики.

16. Выберите из предложенных картинок средства связи.



17. Напишите все правила безопасности при передвижении в автомобиле, которые ты знаешь.

18. Напишите все правила безопасного передвижения на велосипеде, которые ты знаешь.
