


5. На уроке чтения дети отгадывали загадки.

Имя ребёнка.	Количество загадок.
Нина	5 загадки
Коля	2 загадки

Используя данные таблицы, ответь на вопросы:

1. Сколько загадок отгадал Коля? _____
2. Кто из детей отгадал больше загадок? Напиши имя ребёнка.

6. Начерти отрезок длиной 1 дм 4 см. Поставь точку так, чтобы получилось два одинаковых отрезка.




7. Кате надо сделать на праздник 7 цветков. 3 цветка она уже сделала. Сколько цветков осталось сделать Кате?

Решение: _____

Ответ: _____

Итоговая проверочная работа
2 вариант

1. Начерти ломаную из двух звеньев. Одно звено равно 4 см, второе 2 см. Найди длину этой ломаной.



2. Подчеркни числа, в записи которых есть 5 десятков:

52, 15, 50, 5, 35

3. В магазин привезли игрушки. **Рассмотри** таблицу. Сколько привезли игрушек?

Машинки	Куклы	Мячи	Всего
40	30	20	

Подчеркни числовое выражение, которое поможет ответить на этот вопрос:

40 - 30 - 20

40 + 30 + 20

Запиши ответ в таблице.

4. Выпиши в первый столбик верные равенства и неравенства, а во второй столбик – неверные.

9-5>6+0


8-4<8-3

4+5>5+4

8+2=8-2

1+6<10-3

4-3>4-4



5. 🌟 На уроке труда дети вырезали флажки.


Имя ребёнка.	Количество флажков.
Лена	2 флажка
Саша	4 флажка

Используя данные таблицы, ответь на вопросы:

1 Сколько флажков вырезала Лена? _____

2 Кто из детей вырезал больше флажков? Напиши имя ребёнка.

6. Начерти отрезок длиной 1 дм 6 см. Поставь точку так, чтобы получилось два одинаковых отрезка.



7. На первой полке было 6 книг, а на второй — на 4 книги больше. Сколько книг было на второй полке? Сколько книг всего на двух полках?

Решение: _____

Ответ: _____

